




Podlewanie kwiatów

Z każdej konewki wypadły dwie krople wody. Dodaj do siebie liczby zapisane na obu kropkach. Wynik zapisz na konewce.



$$13 + 2$$

$$14 + 6$$

$$10 + 7$$

$$12 + 4$$

$$13 + 6$$

