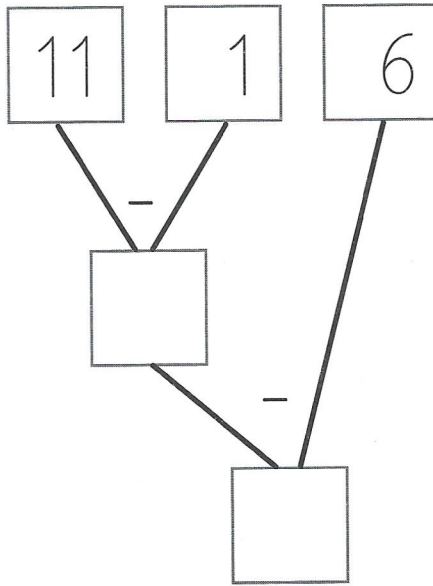
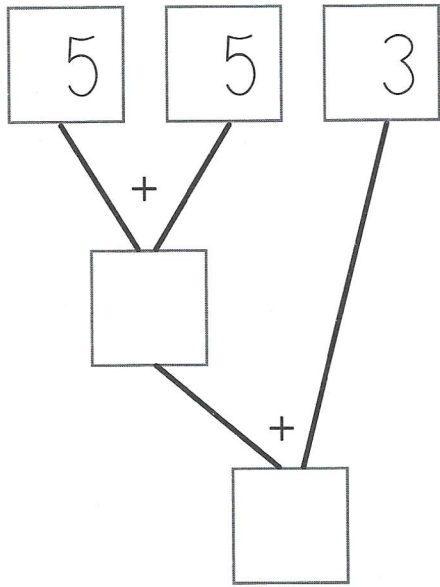
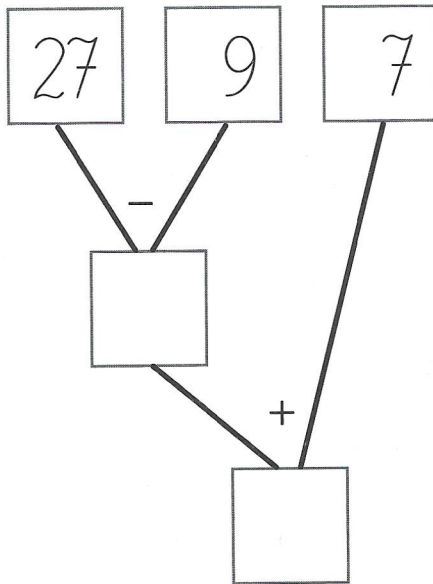
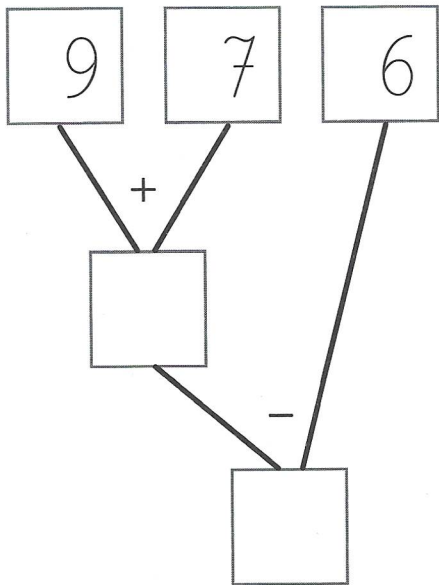


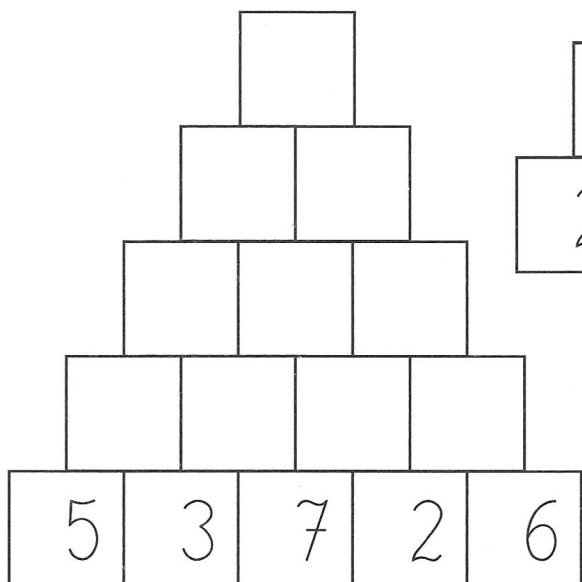
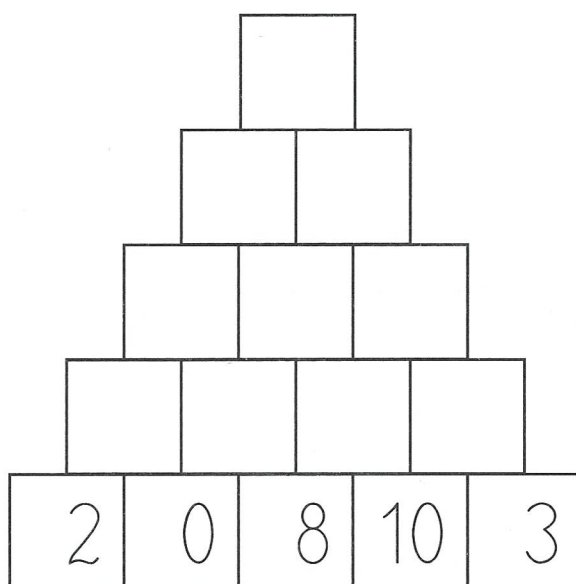
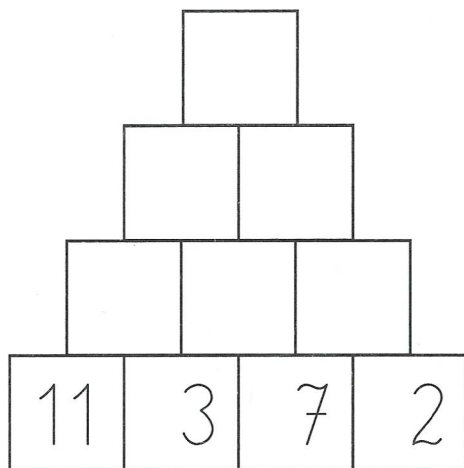
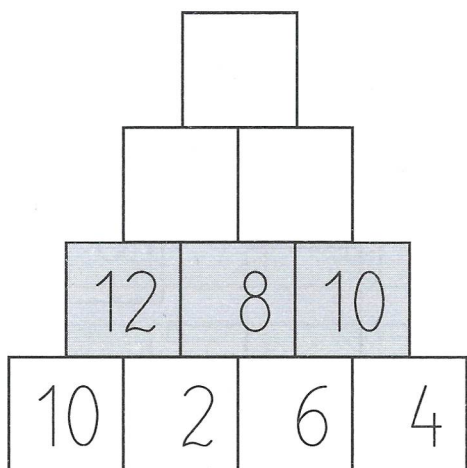
10. Oblicz i zapisz działania przedstawione na drzewkach.



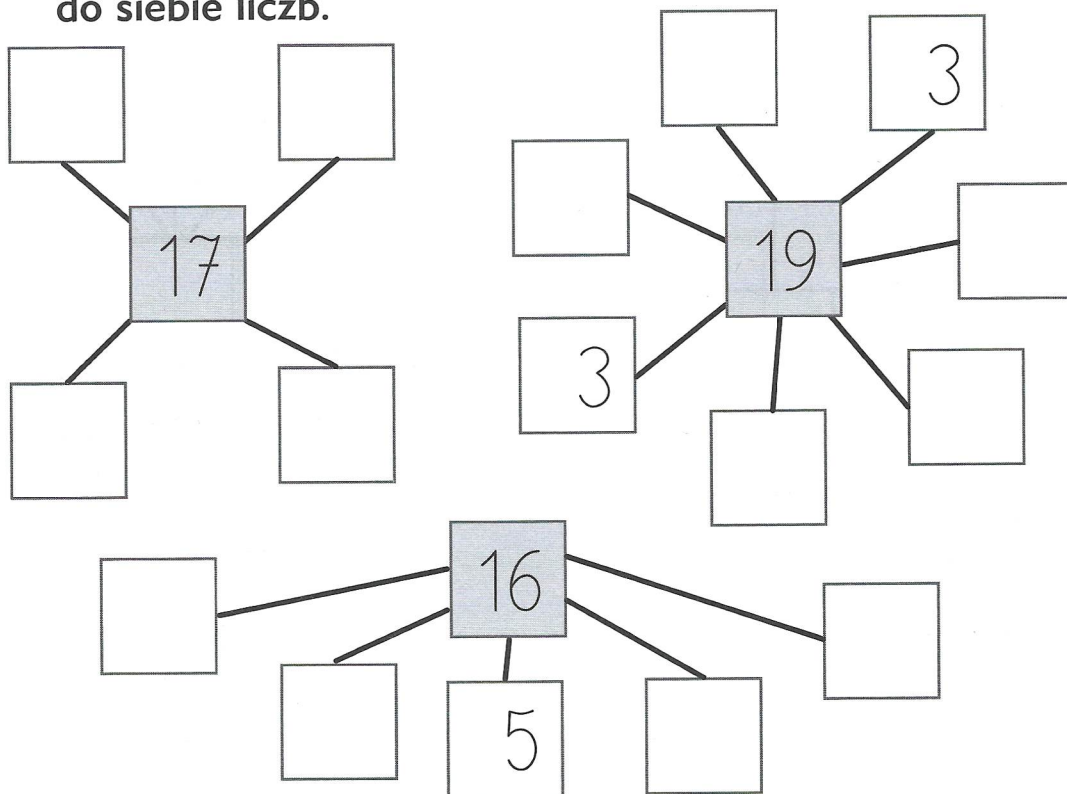
$5 + 5 = 10 + 3 = 13$



11. Uzupełnij piramidy liczb. Dodawaj sąsiednie liczby, a sumę wpisz powyżej.



12. Wpisz odpowiednie liczby w pustych polach wiedząc, że w wyróżnionym kółeczku jest wynik dodawanych do siebie liczb.



13. Oblicz.

$+7$	-6	$+21$	-36
32	6	21	99
71	89	35	47
0	67	71	36
90	78	0	76

14. Znajdź w każdym rzędzie i pokoloruj dwie sąsiadujące ze sobą liczby, których wynik dodawania wynosi 11.

7	0	8	1	6	2	9	9
---	---	---	---	---	---	---	---

2	7	1	8	3	0	5	7
---	---	---	---	---	---	---	---

6	7	4	8	2	4	9	8
---	---	---	---	---	---	---	---

3	6	5	3	0	9	6	5
---	---	---	---	---	---	---	---

15. Do każdej podanej niżej liczby dodaj dwie kolejne.

$$\boxed{2} + \boxed{} + \boxed{} = \boxed{}$$

$$\boxed{3} + \boxed{} + \boxed{} = \boxed{}$$

$$\boxed{6} + \boxed{} + \boxed{} = \boxed{}$$

$$\boxed{8} + \boxed{} + \boxed{} = \boxed{}$$

$$\boxed{5} + \boxed{} + \boxed{} = \boxed{}$$

Zadania i zadanka

1. Oto rysunek leśnej polany. Przyjrzyj się mu uważnie, wykonaj obliczenia i odpowiedz na pytania.

